

Всероссийская олимпиада школьников 2023-2024 учебный год

Школьный этап. География, 8 класс, ответы

Время выполнения 60 мин. Максимальное кол-во баллов – 54

ШИФР 5002

Тестовый тур (27 баллов)

№ задания	Правильный ответ	Кол-во баллов
1	A	0
2	B	1
3	B	1
4	1-б, 2-В, 3Г	0
5	A	1
6	B	1
7	A, Г	2
8	A	1
9	—	0
10	B	0
11		0
12	B	1
13	D	1
14	B	0
15	—	0
16	A	1
17	B	1
18	D	1
Максимально количество баллов		12

Практический тур

Шифр 5002

Задание №1

За каждую правильно заполненную ячейку 1 балл.

Номер центра происхождения культурных растений с рис. 1	Название сельскохозяйственной культуры	Название материка (часть света), родины происхождения данной культуры	Название природной зоны
I	Рис, огурец, цитрусовые		Влажные экваториальные и муссонные леса
II	Чай, редька, соя, яблоня		Область высотной поясности, жестколистные вечнозеленые леса
III	Ячмень, пшеница, морковь, виноград	Азия (Евразия)	
IV	Капуста, репа, маслины, лук	Европа (Евразия)	
V	Арбуз, банан, пшеница твердых сортов		
VI	Кукуруза, табак, подсолнечник		
VII	Картофель, ананас, арахис		

Максимальное количество баллов - 10

05

Задание № 2.

Как называется рельеф?

Назовите природный фактор, формирующий данный рельеф.

Назовите процесс, формирующий этот рельеф

О чем может говорить асимметричность склонов этой формы?

Максимальное количество баллов – 7

Задание № 3.

Вопросы

1. О каких бескрылых птицах идет речь?

105






Всероссийская олимпиада школьников 2023-2024 учебный год

Время выполнения 60 мин. Максимальное кол-во баллов – 56

Шифр 5011

Матрица ответов

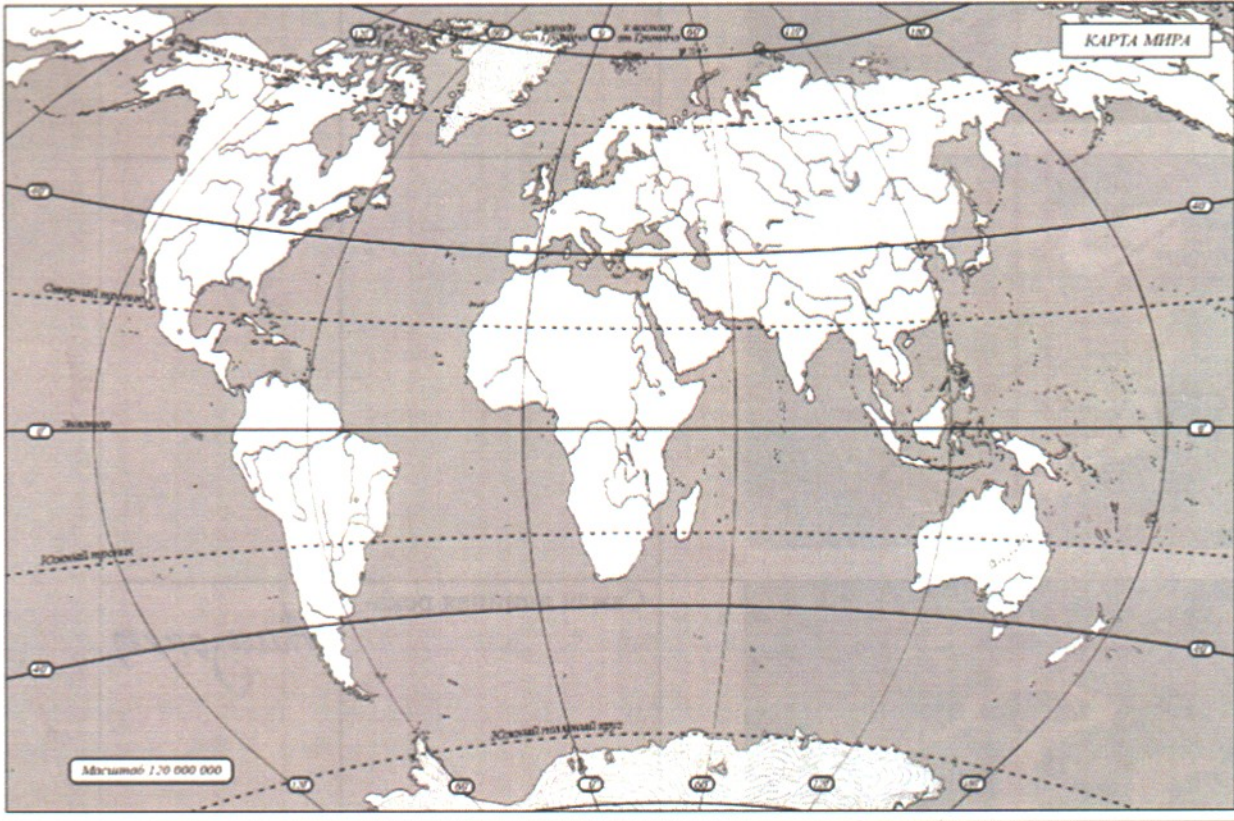
№ задания	Правильный ответ	Кол-во баллов
1	Б	1
2	В	1
3	—	0
4	ВВАГ	3
5	ГВАБ	3
6	А	0
7	В	1
8	В	1
9	—	0
10	АБГ	3
11	А	0
12	Г	1
13	—	0
14	А	0
15	опаздывает	1
16	А	0
17	Б	1
18	Скиснет	1
Всего баллов		17,5


2		Самая высокая гора	Эверест	1
3			Антарктида	1
4		Самая длинная река-	Амазонка	1
5		Самая большая пустыня -	Сахара	1
6		Самый высокий потухший вулкан.	Аконкагуа	1


Шифр

Практический тур

Задание №1



№ на карте	Объект	Название	Количество баллов
1		Гренландия	1

7		Австралия	1
Максимальное количество баллов			

Задание № 2. Максимальное количество баллов – 12.

За каждое правильно отмеченное сочетание по 2 балла

№№ п/п	Расположение вулканов относительно границ литосферных плит	Географическое положение вулканов						
		Вулканы Средиземноморья	Вулканы срединной части Атлантического океана	Вулканы Южной Америки	Вулканы Северной Америки	Вулканы западной оконечности Тихого океана	Вулканы островов Гавайского архипелага	
1	Вулканы зон расхождения литосферных плит		+	+				0б
2	Вулканы зон схождения литосферных плит			+		+		2б
3	Вулканы внутриокеанических литосферных плит		+		+			0б
4	Вулканы зон скольжения относительно друг друга литосферных плит	+			+			2б

5006

Всероссийская олимпиада школьников 2023-2024 учебный год
Школьный этап. География, 10-11 класс
Время выполнения 90 мин. Максимальное кол-во баллов – 79
Теоретический тур

№ задания	Правильный ответ	Кол-во баллов
1	Б	1
2	Б	1
3	Г	1
4	—	0
5	А	1
6	—	0
7	Ч	1
8	А	1
9	Волга	0
10	Г-2, А-3, Б-1	0
11	—	0
12	Промышленность	1
13	А Б Д	3
14	В	1
15	8,6 чел км ²	1
16	В	1
17	Г	1
18	—	0
19	Б	0
20	А	0
Максимальное количество баллов		148

Практический тур

Задание №1.

Определите географический район по его характеристике

№	Вопрос	Ответы	Кол-во баллов
1.	Назовите географический район		
2.	Какая река протекает по территории географического района		
3.	Какие республики входят в состав географического района		
4.	Назовите основные/ведущие отрасли специализации		

08

	географического района		
5.	Назовите города-миллионеры географического района		
Максимальное количество баллов			

08

Задание №2.

Рассчитайте ресурсообеспеченность страны.


№	Страна	Кол-во баллов	Количество лет	Кол-во баллов
1.				
2.				
3.				
4.				
5.				

08

Максимальное количество баллов - 10

Задание №3.

Определите туристический объект, его название и страну, в которой он находится. Запишите название туристического объекта и страну его нахождения.

№	Туристический объект	Название туристического объекта	Кол-во баллов	Страна нахождения туристического объекта	Кол-во баллов
1.		Коллизей		Италия	1

Задание №4.

1.

Цифра на карте	Буква название графика	Количество баллов
1		
2		
3		
4		
Максимальный балл		

08

2. За каждую правильно заполненную ячейку по 1 баллу. Итого максимальный балл за задание – 12 баллов

Буква графика	Название населенного пункта	Название страны	Название климатического пояса
А	Москва 1	РФ 1	Умеренно-континентальный 1
Б	Сакьяло 1	Китай 1	Субтропический 1
В	—	—	—
Г	Трипан 1	Ливия 1	Тропический 1

98.